

**Rappel** : tu peux lire ton journal en PDF dès 20 h, la veille de sa sortie, sur [lepetitquotidien.playbacpresse.fr](http://lepetitquotidien.playbacpresse.fr) (ouvre un compte si tu n'en as pas déjà un).


vendredi  
**27 mars**  
**2020**

n° 6 180 - 0,70 €

# le **Petit** **Quotidien**

100% FAITS 0% OPINIONS **On en apprend tous les jours !**

LA MÉTÉO DE DEMAIN



[www.lepetitquotidien.fr](http://www.lepetitquotidien.fr)

## Dans la nuit de samedi à dimanche, ce sera le passage à l'heure d'été

Il faudra avancer les horloges de 1 heure. À 2 h du matin, il sera 3 h. Cette nuit-là, on dit que « l'on dort une heure de moins » !




À cette occasion,  
révise tes connaissances  
sur les heures et le  
calendrier en t'amusant.  
**Grand quiz**  
en pages 2-3 !

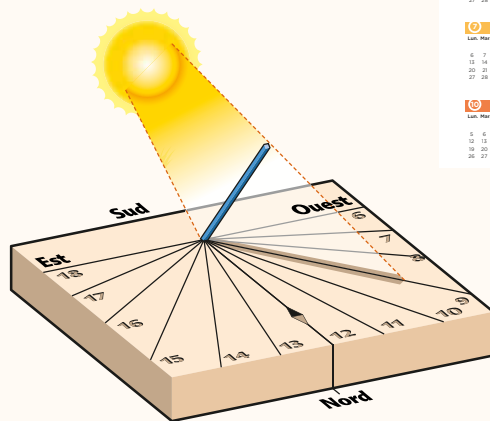
AFP-J. Pachoud

Quiz sur le temps qui passe p. 2 | **Histoire du jour** : Un orang-outan transporté seul p. 3

# Quiz sur le temps qui passe...



- Combien y a-t-il de minutes dans 1 heure ?  
A. 60  
B. 100
- On passe à l'heure d'été le dernier week-end de mars. Quand a lieu le passage à l'heure d'hiver ?  
A. le dernier week-end d'octobre  
B. le dernier week-end de novembre
- Quand il est 8 h 30, on écrit qu'il est :  
A. 8 heures et demi  
B. 8 heures et demie
- À 15 h, il est :  
A. 2 heures de l'après-midi  
B. 3 heures de l'après-midi
- Elle montre les minutes sur une horloge :  
A. la petite aiguille  
B. la grande aiguille
- Une heure après 23 h, il est :  
A. midi  
B. minuit
- À 8 h 45, il est 9 h :  
A. et quart  
B. moins le quart
- Sur certaines montres, une aiguille indique les secondes. Comment s'appelle-t-elle ?  
A. une trotteuse  
B. une galopeuse
- Comment s'appelle un dessin gravé sur une pierre permettant de connaître l'heure grâce à une ombre ?  
A. un cadran solaire  
B. un carré solaire
- Qu'est-ce qui s'écoule lentement dans une clepsydre, pour mesurer le temps qui passe ?  
A. du sable  
B. de l'eau



Visuels : Art Presse

- Que signifie l'expression : « Faire quelque chose à ses heures perdues » ? Faire quelque chose :  
A. pendant son temps libre  
B. pendant la nuit
- Sur une horloge, les heures sont parfois écrites en chiffres romains. À quel chiffre correspond « V » ?  
A. 5  
B. 10
- Comment appelle-t-on l'objet qui se balance dans une horloge ?  
A. une pendule  
B. un pendule
- Combien une année a-t-elle de semaines ?  
A. 48  
B. 52
- Quels sont les mois les plus nombreux ?  
A. les mois de 31 jours  
B. les mois de 30 jours
- Combien de temps dure une saison en France ?  
A. 2 mois  
B. 3 mois
- Quand c'est l'hiver en France, quelle saison se déroule aux États-Unis ?  
A. l'été  
B. l'hiver
- Même question que la 17, en Australie ?  
A. l'été  
B. l'hiver
- Dans le mot week-end (venant de l'anglais), « end » signifie « fin ». Et « week » ?  
A. semaine  
B. travail
- Combien de temps la Terre met-elle pour faire le tour du Soleil ?  
A. 24 heures (1 jour)  
B. 365 jours (1 an)

## L'histoire du jour



AFP-Wahyuudi

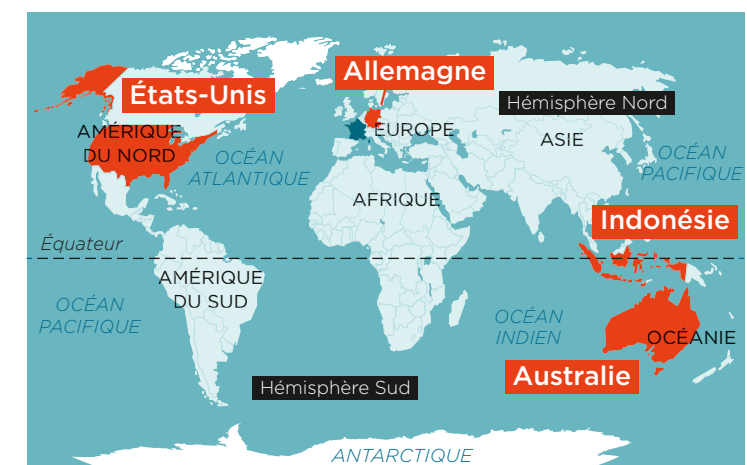
### Un orang-outan transporté seul, comme un colis

Samedi, en **Indonésie**, ce bébé orang-outan a été découvert dans une caisse, dans un véhicule de marchandises. Personne ne l'accompagnait, il était transporté comme un colis. Il a été recueilli par des défenseurs des animaux. Les policiers enquêtent pour trouver la personne qui l'a envoyé. Dans ce pays, ces singes sont parfois capturés pour devenir des animaux de compagnie, alors que c'est interdit. On les découvre souvent dans des valises à l'aéroport, plus rarement dans des camions.

## La photo du jour



Cette cigogne a été pesée avant d'être relâchée, ce week-end, en **Allemagne**. Elle fait partie d'un groupe de cigognes qui ont été recueillies l'an dernier (blessées ou affaiblies), puis soignées. Elles sont remises en liberté au printemps, la saison où elles trouvent à manger.



## Vérifie tes réponses et compte tes points

1. A - 2. A - 3. B - 4. B (3 heures après 12 h) - 5. B (la petite aiguille indique les heures) - 6. B - 7. B - 8. A - 9. A - 10. B (le sable s'écoule dans un sablier) - 11. A - 12. A - 13. B (dans l'hémisphère Sud (où se trouve l'Australie) et l'hémisphère Nord (où se trouvent la France et les États-Unis)) - 14. B - 15. A (il y en a 7 sur 12). - 16. B - 17. B et 18. A. Rappel : les saisons sont inversées entre l'hémisphère Nord et l'hémisphère Sud (où se trouve l'Australie) et l'hémisphère Nord (où se trouvent la France et les États-Unis)) - 19. A - 20. B (la Terre met 1 jour pour faire un tour sur elle-même).  
Mon score : J'ai ..... points.

Dans un journal, cet encadré s'appelle l'ours

Siège social et rédaction : Tél. 01 53 01 23 60  
Play Bac Presse - 14 bis rue des Minimes  
75140 Paris CEDEX 03

Directeur de la publication : J. Saltet  
Dir. diffusion et marketing : M. Jalans  
Rédacteur en chef : F. Dufour fdufour@playbac.fr  
Rédactrice en chef adjointe : P. Leroy  
Réd. en chef technique : N. Ahangama Walawage

Play Bac Presse SARL, gérant : Jérôme Saltet. Comité de direction : F. Dufour, J. Saltet, M. Jalans, Associés : Play Bac, Financières F. Dufour, G. Barrou, J. Saltet. Dépôt légal : mars 1993. Commission paritaire : 0421 C 78076. Loi n° 49-956 du 16 juillet 1949 sur les publications destinées à la jeunesse.

Imprimé en France. Origine du papier : Finlande - Taux de fibres recyclées : 9% - Écopolymère : Ptot 0.014 kg/tonne (dém pour l'éventuel second cahier).





Texte et dessin : Philippe Malausséna

Publicité

premières lectures

**LA CITÉ DES COPAINS**

À PARTIR DE 6 ANS

Billy, Lilou, Plume et leur ami à quatre pattes Raoul vivent dans le même immeuble et partagent des aventures où la solidarité, l'amitié et la débrouillardise sont mises à l'honneur

LA CITÉ DES COPAINS  
Le arête d'été

LA CITÉ DES COPAINS  
Le caniche perdu

LA CITÉ DES COPAINS  
Un grand arbre bizarre

LA CITÉ DES COPAINS  
Mistère classe verte

À chaque niveau de lecture son **HÉROS**

Hatier jeunesse

www.editions-hatier.fr/jeunesse

Christine Pailly - Mathilde George